


Matematyka/ Poniedziałek

Co jest na obrazkach? Policz krokodyle. Ile jest krokodyli? Zaznacz odpowiednią cyfrę.




Matematyka/ Wtorek

Co jest na obrazkach? Policz błyskawice. Ile jest błyskawic? Zaznacz odpowiednią cyfrę.




Matematyka/ Środa

Co jest na obrazkach? Policz delfiny. Ile jest delfinów? Zaznacz odpowiednią cyfrę.




Matematyka/ Czwartek

Co jest na obrazkach? Policz samochody. Ile jest samochodów? Zaznacz odpowiednią cyfrę.



Matematyka/ Piątek

Co jest na obrazkach? Policz błyskawice. Ile jest błyskawic? Zaznacz odpowiednią cyfrę.



1	2	3	4	5
6	7	8	9	10